



Calculation Characters



© 2014 by the author



# بنك الأسئلة لمادة الرياضيات الصف الأول الابتدائي























































اسمي: -----

فصلي ١ / -----

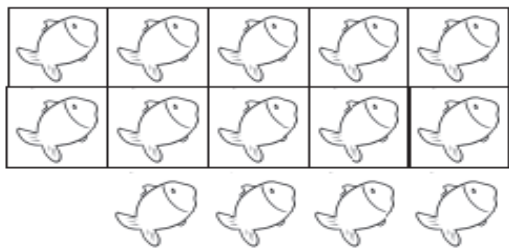
العام الدراسي: ----- ١٤ هـ



السؤال الأول : اختاري الإجابة الصحيحة ثم ظللي الحرف المناسب فيما يأتي :

١/ التصنيف حسب اللون :							
أ		ب		ج		د	
٢/ التصنيف حسب الشكل :							
							
أ		ب		ج		د	
٣/ التصنيف حسب الشكل والحجم واللون :							
							
أ		ب		ج		د	
٤/ مجموعة السحب							
     							
أ	تساوي 	ب	أكثر من 	ج	أقل من 	د	أصغر من 
٥/ مجموعة							
    							
أ	تساوي 	ب	أكثر من 	ج	أقل من 	د	أكبر من 
٦/ هل مجموعة							
   							
أ	تساوي 	ب	أكثر من 	ج	أقل من 	د	أكبر من 
٧/ هل مجموعة							
      							
أ	تساوي 	ب	أقل من 	ج	أكثر من 	د	أصغر من 

٨ / عدد الأسماك الموجودة :



١٣

د

١٤

ج

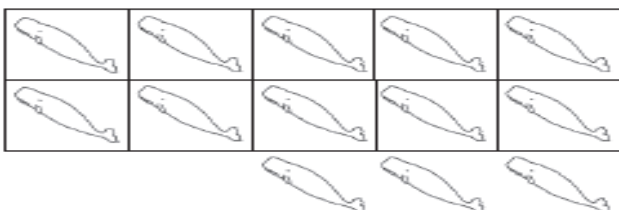
١٧

ب

١٥

أ

٩ / عدد الحيتان



١٤

د

١٣

ج

١٢

ب

١٦

أ

١٠ / عدد النجمات



١٣

د

١٤

ج

١٥

ب

١٦

أ

١١ / عدد الكرات



١١

د

١٠

ج


١٢

ب

١٣

أ

١٢ / عدد الأقلام



١٢

د

١١

ج

١٣

ب

١٠

أ

١٣ / عدد الكرات



١٣

د

١١

ج

١٠

ب

أ

١٤ / الفاكهة التي تقع في الأعلى؟



أ	التفاحة الحمراء	ب	التفاحة الخضراء	ج	البرتقالة	د	الموز
---	-----------------	---	-----------------	---	-----------	---	-------

١٥ / جملة الجمع المناسبة هي :




أ	١+٢	ب	٣+٢	ج	٤+٢	د	٥+٢
---	-----	---	-----	---	-----	---	-----

١٦ / جملة الجمع المناسبة هي :



أ	١+٥	ب	٦+٤	ج	٥+٤	د	٣+٤
---	-----	---	-----	---	-----	---	-----

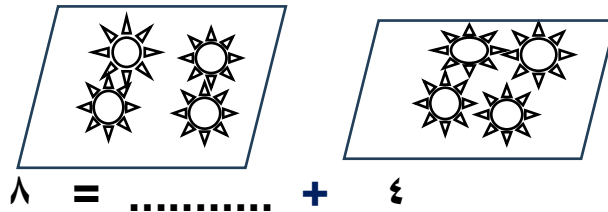
١٧ /



$$\dots\dots\dots = ٩ + ٠$$

أ	٥	ب	٩	ج	١٠	د	٨
---	---	---	---	---	----	---	---


١٨ /



$$٨ = \dots\dots\dots + ٤$$

أ	٥	ب	٢	ج	٣	د	٤
---	---	---	---	---	---	---	---



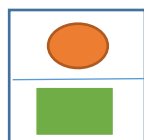
١٩ / عدد الأزهار




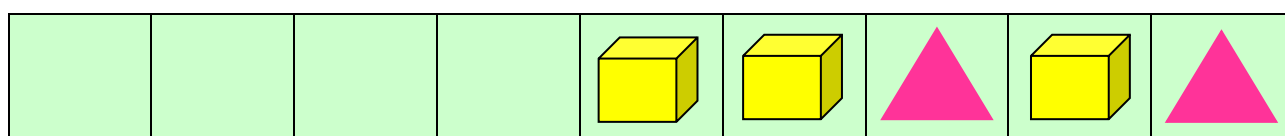
أ	٢	ب	٣	ج	١	د	٤
---	---	---	---	---	---	---	---

## السؤال الثاني


أ/ أكمل النمط :





ب / اكتشفي النمط فيما يلي واكملي :





**السؤال الثالث :** صلي كل عنصر في المجموعة الأولى بعنصر من الثانية، ثم  
اكتب عدد كل منهما وأحطي العدد الأقل




















## السؤال الرابع

١ / ضعي علامة (×) على القبعة التي في الأسفل :



٢ / ضعي علامة (×) على الكتاب الأوسط :




٣ / ضعي خطا تحت الغزال الذي يسير بعد الاسد :




٤ / ضعي دائرة حول القارب الذي قبل القارب الأزرق :




السؤال الخامس ضع ي حول العدد المناسب



٧ ، ٩ ، ٦



٨ ، ٥ ، ٩



٥ ، ٢ ، ٤

٨      ٧      ٦	٨      ٢      ٦	٣      ٩      ٢

السؤال السادس ارسم كرات بحسب العدد

٤	٧	٦
---	---	---




### السؤال السابع: اكمل كتابة الأعداد














[illegible]


			٦	٥					
--	--	--	---	---	--	--	--	--	--


### السؤال الثامن: عدي ثم اكتبني:
















	☆☆☆☆☆☆☆☆☆☆
--	------------


	
--	--


	            
--	--

	
--	--

	
--	--

	              
--	--

	
--	--

	
--	--

[illegible]

السؤال التاسع: اكتب الاعداد مرتبة :

	٨				٤			١	٠
		١٧				١٣			١٠

السؤال العاشر: أ/ اكتب العدد التالي:

	٣		٥		٢
	٩		٧		٨
	١٥		١٠		١٤
	١٣		١٧		١٨

ب / اكتب العدد السابق:

٥		٨		١	
٩		٢		٤	
١٧		١٤		١٠	
١٩		١٦		١١	

ج/ اكتب العدد المناسب:

٨		٦
---	--	---

٣		١
---	--	---

٦		٤
---	--	---

٢		٠
---	--	---

	١	
--	---	--

	٦	
--	---	--

	٨	
--	---	--

	٥	
--	---	--

		٢
--	--	---

		٧
--	--	---

		٥
--	--	---

		١
--	--	---

	١٨	
--	----	--

	١٦	
--	----	--

	١٧	
--	----	--

	١١	
--	----	--

١١		٩
----	--	---

٩		٧
---	--	---

١٥		١٣
----	--	----

١٧		١٥
----	--	----

١١		
----	--	--

٦		
---	--	--

١٩		
----	--	--

٣		
---	--	--

د/ اكتب العدد المناسب:

	٦	٥			
--	---	---	--	--	--




٩	٨				
---	---	--	--	--	--

١٤			١١		
----	--	--	----	--	--

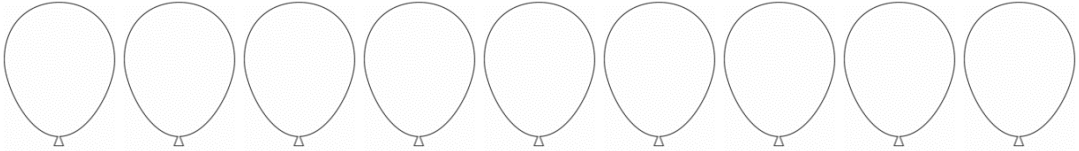
	١٨				١٤
--	----	--	--	--	----

## السؤال الحادي عشر:


أ/ لون السيارة حسب المطلوب



ب/ لوني البالونين السابع و التاسع



ج/ لوني الكتابين الثالث والخامس



## السؤال الثاني عشر :

أ/ اكتبى جمل الجمع التالية :

$$\square = \begin{array}{c} \text{bell} \\ \text{bell} \\ \text{bell} \\ \text{bell} \end{array} + \begin{array}{c} \text{bell} \\ \text{bell} \\ \text{bell} \end{array}$$

$$\square = \square + \square$$

$$\square = \begin{array}{c} \text{flower} \\ \text{flower} \\ \text{flower} \\ \text{flower} \end{array} + \begin{array}{c} \text{flower} \\ \text{flower} \\ \text{flower} \\ \text{flower} \end{array}$$

$$\square = \square + \square$$

$$\square = \begin{array}{c} \text{smiley} \\ \text{smiley} \end{array} + \begin{array}{c} \text{smiley} \\ \text{smiley} \\ \text{smiley} \\ \text{smiley} \\ \text{smiley} \\ \text{smiley} \\ \text{smiley} \end{array}$$

$$\square = \square + \square$$

ب/ اكتبى ناتج الجمع فيما يلى :

$$\square + 8 \quad \square + 3 \quad \square = 6 + 2$$

$$\square = 7 + 1 \quad \square = 2 + 6 \quad \square = 3 + 3$$

$$\begin{array}{r} 4 \\ 4 \\ \hline \end{array} +$$

$$\begin{array}{r} 5 \\ 0 \\ \hline \end{array} +$$

$$\begin{array}{r} 4 \\ 3 \\ \hline \end{array} +$$

$$\begin{array}{r} 6 \\ 1 \\ \hline \end{array} +$$

$$\begin{array}{r} 2 \\ 3 \\ \hline \end{array} +$$

ج / أوجدني ناتج ما يلي:

$= ٤ + ٣$	$= ٢ + ٢$	$= ٥ + ٣$
$= ١ + ٦$	$= ٥ + ١$	$= ٧ + ١$
$= ٨ + ١$	$= ٢ + ٦$	$= ٠ + ٨$
$= ٥ + ٣$	$= ٤ + ٥$	$= ٣ + ٣$
$= ٦ + ٣$	$= ١ + ٨$	$= ٤ + ٢$

السؤال الثالث عشر: صلي المجموعات التالية بالعدد

١٣
١٠
١٤
١٥

